

**ŠKOLSKO/OPĆINSKO/GRADSKO NATJECANJE IZ GEOGRAFIJE
2017. GODINE**

Razred ili kategorija natjecanja: **7. razred**

Zaporka

--	--	--	--	--

Broj postignutih bodova ____ / 70

Potpis članova Školskog povjerenstva

1. _____

2. _____

3. _____

Mjesto i nadnevak: _____

Za rješavanje zadataka predviđeno je 60 minuta.

Ispit se rješava kemijskom olovkom s plavom tintom koja se ne briše. Uporaba obične olovke i crvene ili neke druge boje tinte (osim plave) rezultira diskvalifikacijom učenika.

Pri rješavanju ispita treba primijeniti jezičnu normu standardnoga hrvatskoga jezika, posebice treba poštivati pravopisna pravila o pisanju velikoga i maloga početnog slova geografskih imena. Za pisanje geografskih imena u ispitima i praktičnim radovima primjenjuje se Hrvatski pravopis Instituta za hrvatski jezik i jezikoslovlje (2013.).

Odgovori učenika moraju biti čitljivo napisani pisanim slovima, jedino u zadacima u kojima je odgovor jedno slovo dopuštena je uporaba čitljivo napisanog velikog tiskanog slova.

Za vrijeme pisanja ispita ne smije se koristiti ništa osim navedenoga pribora za pisanje. Ova odredba podrazumijeva da natjecatelji ne smiju kod sebe (na sebi, ispod, u svojoj odjeći i slično) imati predmete koji na bilo koji način mogu dovesti u sumnju pravilno provođenje natjecanja. Učenici se ne smiju služiti atlasom, zidnom kartom ni računalom. Kartografski i grafički prilozi nužni za rješavanje zadataka sastavni su dio ispita.

Učenicima se dopušta pisanje po marginama i praznim stranicama ispitnog materijala bez oduzimanja bodova i/ili diskvalifikacije.

Potpuno ispravno riješeni zadatci, prema uputi za rješavanje vrednuju se s jednim, dva ili tri boda. U djelomično ispravno riješenim zadacima boduju se ispravno riješene čestice, ako nije bilo korekcije odgovora u tim česticama. Netočno riješeni zadatci i naknadno ispravljeni odgovori te odgovori koji su pisani velikim tiskanim slovima ili kombinacijom tiskanih i pisanih slova, kao i odgovori u zagradama ne vrednuju se.

**U PRVIH OSAM ZADATAKA DVA SU TOČNA ODGOVORA. ZAOKRUŽI SLOVA
ISPRED TOČNIH ODGOVORA.**

2

1. Koje su od navedenih europskih reljefnih uzvisina stara gromadna gorja?

- a) Beskidi b) Karpati c) Rodopi d) Središnji masiv e) Stara planina (Balkan)

2

2. Koje su među navedenim europskim rijekama najdulje?

- a) Don b) Dunav c) Pečora d) Rajna e) Ural

2

3. Koje su od navedenih francuskih pokrajina poznate po razvijenom vinogradarstvu i vinarstvu?

- a) Aquitaine (Akvitanija) b) Bourgogne (Burgundija) c) Bretagne (Bretanja)
d) Normandie (Normandija) e) Picardie (Pikardija)

2

4. Koja se od navedenih jezera cijelom površinom nalaze na Baltičkom štitu?

- a) Čudsko (Peipsi) b) Ladoga c) Onega d) Saimaa e) Vänern

2

5. Koji se od navedenih pojmova odnose na Republiku Irsku?

- a) Belfast b) Clyde c) Dublin d) otok Man e) Shannon

2

6. U kojim je od navedenih država njemački jedan od službenih jezika?

- a) Andora b) Belgija c) Danska d) Nizozemska e) Luksemburg

2

7. Koje su od navedenih tvrdnji o Alpama točne?

- a) Alpe se protežu od Tirenskog mora do Bečke zavale.
b) Zapadne Alpe u prosjeku su više od istočnih Alpa.
c) Najviši vrh Alpa je na granici Francuske i Švicarske.
d) U Alpama izvire rijeke Rajna i Rhone.
e) Alpe su izdignute krajem kenozoika.

2	
---	--

8. Koje su od navedenih tvrdnji o zapadnoj Europi točne?

- a) Zapadna Europa najgušće je naseljena regija Europe.
- b) Većina država zapadne Europe po državnom su uređenju republike.
- c) Najveći dio zapadne Europe ima umjereno toplu klimu sa svježim ljetom.
- d) Gospodarska važnost država zapadne Europe počinje rasti tek nakon velikih geografskih otkrića.
- e) Površinom i brojem stanovnika najveća država zapadne Europe je Ujedinjeno Kraljevstvo.

U SLJEDEĆA DVA ZADATKA POVEŽI POJMOVE UPISIVANJEM SAMO JEDNOGA SLOVA NA CRTU ISPRED POJMA U LIJEVOM STUPCU. DVA SE POJMA IZ DESNOG STUPCA NE MOGU POVEZATI.

3	
---	--

9. Poveži mora s njihovim obilježjima.

- | | |
|----------------|---|
| _____ Azovsko | A) dio godine zaleđeno |
| _____ Norveško | B) najsjevernije položeno obalno more Europe |
| _____ Sjeverno | C) pripadaju mu vulkanski otoci |
| | D) na obali je najprometnija morska luka Europe |
| | E) presijeca ga sjeverna polarnica |

3	
---	--

10. Poveži francuske gradove s njihovim obilježjima.

- | | |
|------------------|---|
| _____ Strasbourg | A) nalazi se na ušću rijeke Loire |
| _____ Lille | B) nalazi se na ušću rijeke Saône u rijeku Rhônu |
| _____ Toulouse | C) sjedište Vijeća Europe |
| | D) brojem stanovnika najveće gradsko središte sjevera Francuske |
| | E) središte zrakoplovne industrije |

SLJEDEĆIH ŠEST ZADATAKA RIJEŠI UZ POMOĆ PRILOŽENE GEOGRAFSKE KARTE EUROPE.



2 **11.** Na crte iza brojeva upiši imena zaljeva označenih na priloženoj karti brojevima **1** i **2**.

1 _____ **2** _____

3 **12.** Ime morskog prolaza označenoga na priloženoj karti brojem **3** je _____, a povezuje morski prolaz _____ (upiši ime) i _____ more.

1 **13.** Na priloženoj karti kemijskom olovkom u cijelosti ispuni površinom najveći otok Europe. Ime tog otoka je _____.

2 **14.** Na priloženoj karti upiši slovo **A** u državu u kojoj izvire Dunav, a slovo **B** u državu u kojoj izvire Volga. Ime države u kojoj izvire Dunav je _____, a ime države u kojoj izvire Volga je _____.

2 **15.** Na crte iza brojeva upiši imena poluotoka označenih na priloženoj karti brojevima **4** i **5**.

4 _____ **5** _____

1 **16.** Ime otočne skupine zaokružene na priloženoj karti je _____.

SLJEDEĆIH SEDAM ZADATAKA RIJEŠI UZ POMOĆ PRILOŽENE TABLICE.

država	stopa rodnosti 2015. (‰)	stopa smrtnosti 2015. (‰)	stupanj urbanizacije 2015. (%)	migracijska bilanca 2015. (‰)
Belgija	11,4	9,7	97,9	5,6
Bugarska	8,8	14,5	73,9	-0,3
Norveška	12,2	8,1	80,5	6,6
Poljska	9,6	10,3	60,5	-0,4
Republika Irska	14,5	6,5	63,2	4,0

Izvor: <https://www.cia.gov/library/publications/the-world-factbook>

- 1** 17. Među navedenima, ime države koja ima najveći udio ruralnog stanovništva je _____.
- 2** 18. Među navedenima, ime države koja ima najveći prirodni porast stanovništva je _____, a ime države koja ima najveći prirodni pad stanovništva je _____.
- 2** 19. Među navedenima, imena država koje imaju veću emigraciju od imigracije su _____ i _____.
- 2** 20. Među navedenima, ime države iz koje je u 19. stoljeću iselio najveći udio stanovništva je _____, a njena je migracijska bilanca 2015. godine iznosila _____ ‰.
- 2** 21. Među navedenima, imena država čiji službeni jezici pripadaju skupini slavenskih jezika su _____ i _____.
- 2** 22. Među navedenima, imena država koje su prema državnom uređenju monarhije su _____ i _____.
- 2** 23. Među navedenima, ime višenacionalne države je _____, a ime države u kojoj prevladava stanovništvo pravoslavne vjere je _____.

prostor za računanje

U SLJEDEĆA ČETIRI ZADATKA DOPUNI REČENICE.

- 1** 24. Ime države zapadne Europe u kojoj je izgrađena prva plimoelektrana je _____.
- 2** 25. Ime površinom najveće euroazijske države je _____, a ime morskog prolaza na granici Europe i Azije koji povezuje Crno i Mramorno more je _____.
- 3** 26. Najveći dio Europe nalazi se u _____ toplinskom pojasu (upiši puni naziv) kojeg na sjeveru omeđuje _____ (upiši puni naziv paralele), a na jugu _____ (upiši puni naziv paralele).
- 2** 27. Imena država s kojima Francuska graniči na području Pireneja su _____ i _____.

U SLJEDEĆA DVA ZADATKA JEDAN JE ODGOVOR TOČAN. ZAOKRUŽI SLOVO ISPRED TOČNOG ODGOVORA.

- 1** 28. Koliko je sati u Grčkoj kada je u Ujedinjenom Kraljevstvu podne?
a) 11 h b) 12 h c) 13 h d) 14 h
- 1** 29. Koji je od navedenih francuskih gradova gospodarsko središte Središnjeg masiva?
a) Chamonix b) Clermont-Ferrand c) Grenoble d) Montpellier

SLJEDEĆA DVA ZADATKA RIJEŠI UZ POMOĆ PRILOŽENIH GRAFIČKIH PRILOGA. POVEŽI POJMOVE UPISIVANJEM PRIPADAJUĆEG SLOVA I BROJA NA CRTU ISPRED POJMOVA. JEDAN GRAFIČKI PRILOG I JEDAN OPIS NE MOGU SE POVEZATI.

3

30. Na crte ispred pojmova upiši odgovarajući broj grafičkog priloga i odgovarajuće slovo opisa tipa obale ili riječnog ušća.

_____ laguna

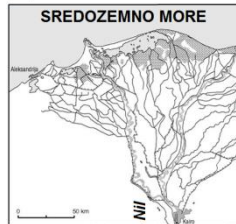
_____ estuarij

_____ fjord

1



2



A Dubok, uzak i dug morski zaljev strmih strana nastao potapanjem ledenjačke doline.

B Obalni plićak, pješčanim prudom djelomično ili potpuno odvojen od otvorenog mora.

3



4



C Zaljev nastao potapanjem riječnog ušća ili dijelova riječne doline zbog izdizanja morske razine.

D Riječno ušće ljevkastog oblika.

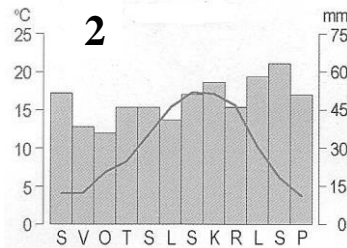
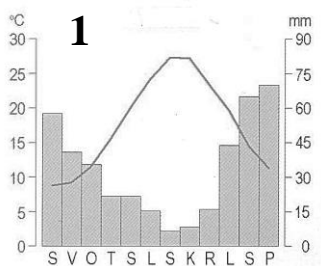
3

31. Na crte ispred tipova klime upiši odgovarajući broj klimatskog dijagrama i odgovarajuće slovo obilježja tipa klime.

_____ sredozemna

_____ vlažna snježno-šumska

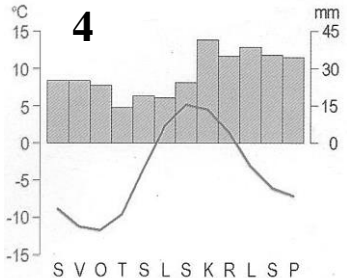
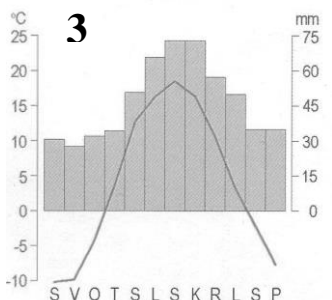
_____ umjereno topla vlažna s toplim ljetom



A Velika godišnja amplituda temperature. Više padalina u toplijem dijelu godine.

B Kratko i hladno ljeto, duge i vrlo hladne zime.

Malo padalina.



C Podjednaka raspodjela padalina tijekom godine. Izražena maritimnost.

D Vruća i suha ljeta, blage i kišovite zime.

U SLJEDEĆA DVA ZADATKA POVEŽI PAROVE UPISIVANJEM SLOVA NA CRTU ISPRED PONUĐENIH ODGOVORA. TRI CRTE MORAJU OSTATI PRAZNE.

2 **32.** Poveži vrhove s pripadajućim reljefnim uzvisinama.

A Ben Nevis

B Musala

_____ Grampiansko gorje _____ Kambrijsko gorje _____ Karpati

_____ Rodopi _____ Ural

2 **33.** Poveži obilježja s pripadajućim gradovima Ujedinjenog Kraljevstva.

A luka za preradu nafte na obali Sjevernog mora

B gospodarsko središte poluotoka Cornwalla s razvijenom brodogradnjom

_____ Aberdeen _____ Cardiff _____ Leeds

_____ Liverpool _____ Plymouth

SLJEDEĆA DVA ZADATKA RIJEŠI UZ POMOĆ PRILOŽENE GEOGRAFSKE KARTE BELGIJE.

2 **34.** Na crte iza brojeva upiši imena gradova označenih na priloženoj karti brojevima **1** i **2**.

1 _____

2 _____

2 **35.** Ime reljefne uzvisine

zatamnjene na priloženoj karti je

_____, a ime

rijeke čije je ušće zaokruženo na priloženoj

karti je _____.

